


Thứ tư ngày 18 tháng 10 năm 2024



KHỞI ĐỘNG





TRÒ CHƠI

ONG TÌM MẬT





Số 10 900 000 đọc là:

A. Mười triệu
chín nghìn

B. Mười trăm
triệu chín
trăm nghìn

C. Mười
triệu chín
nghìn





Số 850 003 200 đọc là:

A. Tám trăm triệu không trăm linh ba nghìn hai trăm

B. Tám trăm năm mươi triệu không trăm linh ba nghìn hai trăm

C. Tám trăm năm mươi triệu không trăm nghìn hai trăm



Trong số 436 731 các số thuộc
lớp nghìn gồm những số:

A. 7, 3, 1

B. 4, 3, 7

C. 4, 3, 6





Toán

Bài 15: Làm quen
với dãy số tự
nhiên

YÊU CẦU CẦN ĐẠT

- Nhận biết được số tự nhiên và dãy số tự nhiên.
- Nêu được một số đặc điểm của dãy số tự nhiên.

KHÁM PHÁ





Khám phá

Còn số nào bé hơn không nhỉ?

Còn số nào lớn hơn nữa không nhỉ?

Còn nhiều thẻ số lắm

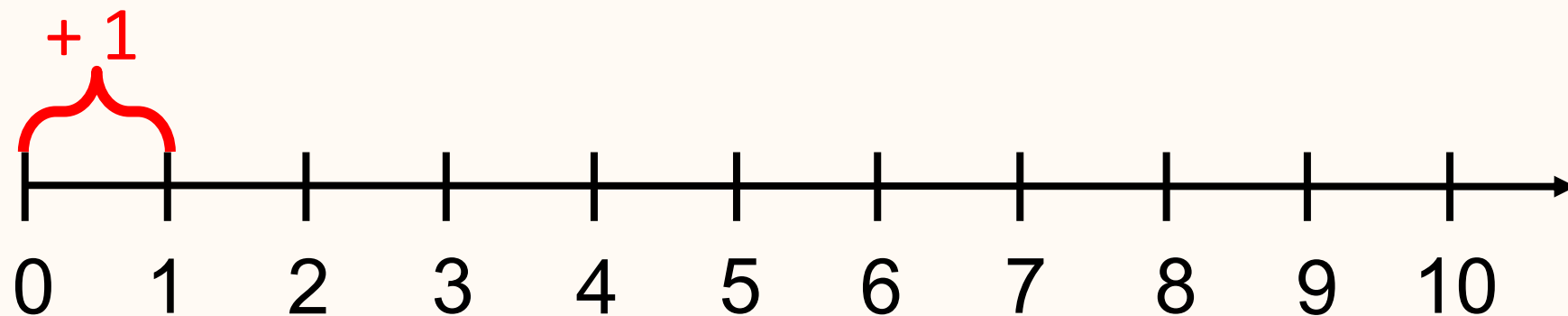


1 2 3 4 5 6 7 8 9 10







Các số 0, 1, 2, 3 là các số tự nhiên

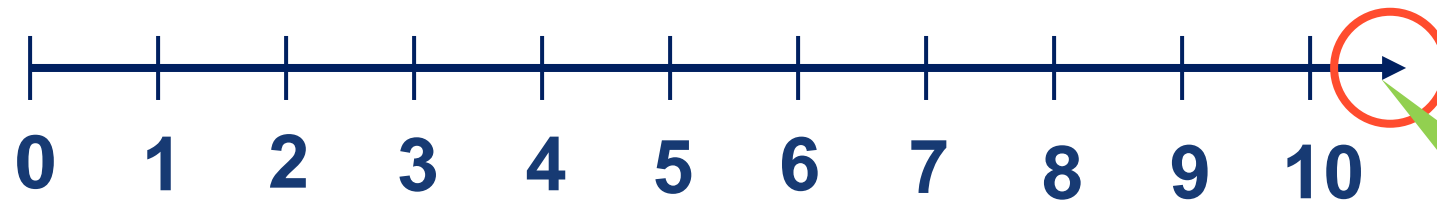


- Các số tự nhiên sắp xếp theo thứ tự từ bé đến lớn tạo thành dãy số tự nhiên.
- Số tự nhiên bé nhất là 0. Không có số tự nhiên lớn nhất.
- Trong dãy số tự nhiên, hai số tự nhiên liên tiếp hơn kém nhau 1 đơn vị.



Đố các bạn
số tự nhiên
lớn nhất là số
nào?






Tia số còn
kéo dài mãi

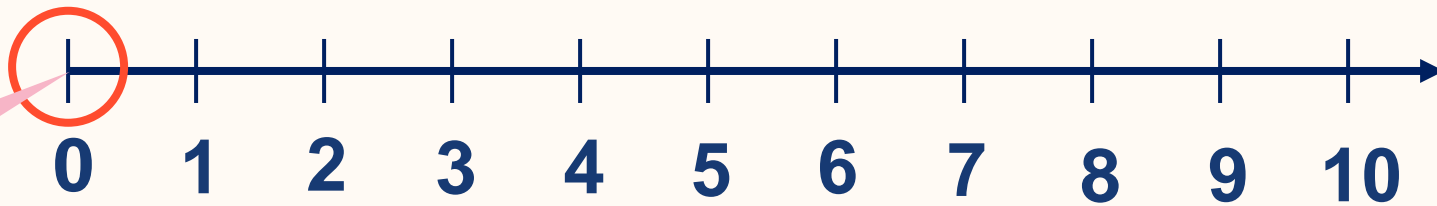
Thêm 1 vào bất
cứ số nào cũng
được **số tự nhiên**
liền sau số đó

Không có
số tự nhiên
lớn nhất.



Đố các bạn
số tự nhiên
bé nhất là số
nào?





Điểm gốc
của tia số

Bớt 1 ở bất kì số
nào (khác 0) cũng
được **số tự nhiên**
liền trước số đó

Không có
số tự nhiên
nào liền
trước số 0

0 là số tự
nhiên bé
nhất

HOẠT ĐỘNG





1

Đ, S ?

a) Số 1 000 000 là số tự nhiên lớn nhất.

b) Dãy số 1, 2, 3, 4, 5... là dãy số tự nhiên.


c) Số đầu tiên của dãy số tự nhiên là số 0.

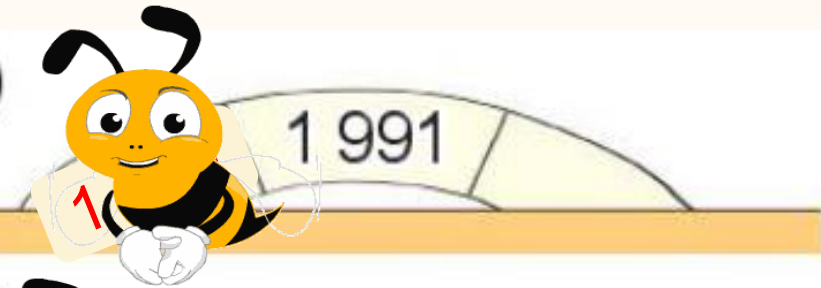
d) Số liền trước của một số bé hơn số liền sau của một số 2 đơn vị.







2 Tìm số liền trước của các số sau.

a)  81

b)  1 991

c)  2 045

d)  10 000



3 Sắp xếp các số dưới đây theo thứ tự từ bé đến lớn.

10 001

9 999

9 666

9 998

VẬN DỤNG



Trò chơi

Best

CHÚ ONG
CHẤM CHỈ



Giúp chú ong tìm được **số liền sau**
của mỗi số sau cho đúng nhé các em!

6

29

99

100

1000





CHÀO TẠM BIỆT

